


# Finde die Flaggen-Paare!



Die Europäische Union, deren Flagge einen Kreis aus zwölf Sternen vor blauem Hintergrund zeigt, hat 27 Mitgliedsländer, von denen jedes seine eigene Flagge hat.

Finde die Paare und erfahre mehr über die einzelnen EU-Länder!



Das hier ist die PDF-Version des Online-Spiels „Finde die Flaggen-Paare“, das du in der Lernecke findest: [https://europa.eu/learning-corner/match-the-flags\\_de](https://europa.eu/learning-corner/match-the-flags_de)





# So bastelst du dir deine eigenen Memory-Karten

Druck die Seiten mit den Flaggen der EU-Länder aus. Du kannst die Flaggenkarten in Farbe ausdrucken oder aber Schwarzweißdruck wählen und die Flaggen anschließend selbst ausmalen.

Du brauchst eine für Kinder geeignete Schere, Wachsmalkreiden und Kleber.

1



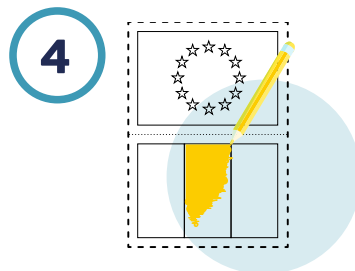
2



Schneide die Karten entlang der gepunkteten Linie aus.


Mal die Karten aus (falls du sie in Schwarz-Weiß ausgedruckt hast).

Falte die Karten entlang der gepunkteten Linie und kleb die beiden Seiten aufeinander.



Misch die Karten, verteil sie mit der EU-Flagge nach oben auf einer glatten Oberfläche und versuch, möglichst schnell alle Paaren zu finden.

Auf den Seiten 21–24 findest du interessante Informationen über die einzelnen EU-Länder.





Belgien




Belgien




Bulgarien




Bulgarien




Tschechien



Tschechien



Dänemark



Dänemark



Deutschland



Deutschland



Estland



Estland



Irland



Irland



Griechenland




Griechenland




Spanien



Spanien



Frankreich



Frankreich



Kroatien



Kroatien



Italien



Italien



Zypern



Zypern



Lettland



Lettland



Litauen




Litauen



Luxemburg




Luxemburg




Ungarn



Ungarn



Malta



Malta



Niederlande



Niederlande



Österreich



Österreich



Polen



Polen




Portugal



Portugal



Rumänien




Rumänien




Slowenien




Slowenien




Slovakie



Slovakie



Finland



Finland



Schweden



Schweden



Card 1 (Left):  
Top: A circle of 12 stars.  
Bottom: A rectangle divided into three vertical columns.  
Caption: Belgien


Card 2 (Right):  
Top: A circle of 12 stars.  
Bottom: A rectangle divided into three vertical columns.  
Caption: Belgien

Card 3 (Left):  
Top: A circle of 12 stars.  
Bottom: A rectangle divided into three horizontal rows.  
Caption: Bulgarien


Card 4 (Right):  
Top: A circle of 12 stars.  
Bottom: A rectangle divided into three horizontal rows.  
Caption: Bulgarien

Card 5 (Left):  
Top: A circle of 12 stars.  
Bottom: A rectangle divided into two horizontal rows, with a diagonal line from the top-right corner to the bottom-left corner.  
Caption: Tschechien


Card 6 (Right):  
Top: A circle of 12 stars.  
Bottom: A rectangle divided into two horizontal rows, with a diagonal line from the top-right corner to the bottom-left corner.  
Caption: Tschechien




Dänemark




Dänemark




Deutschland




Deutschland





Estland



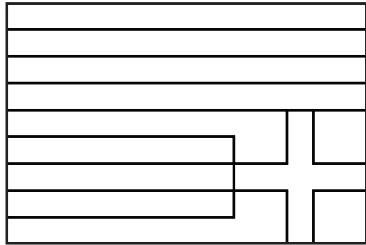

Estland



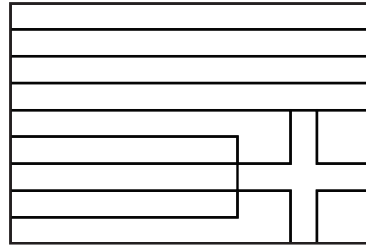

Irland



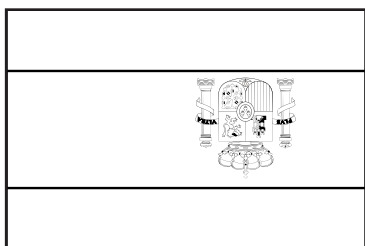

Irland



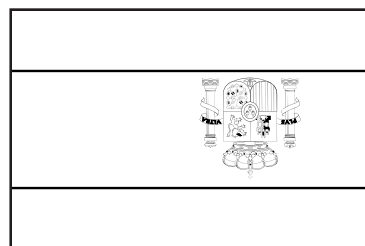

Griechenland




Griechenland





Spanien



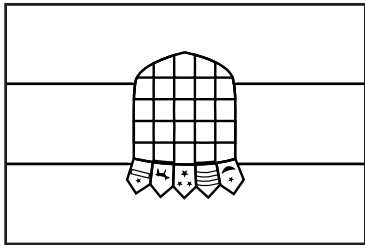

Spanien



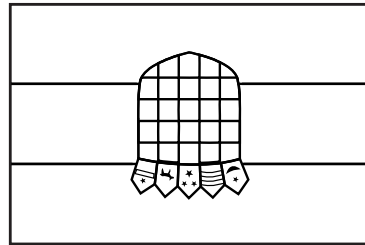

Frankreich





Frankreich





Kroatien



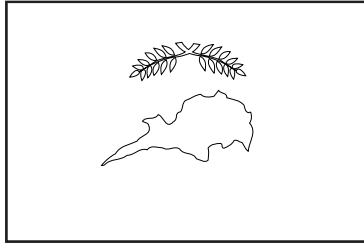

Kroatien



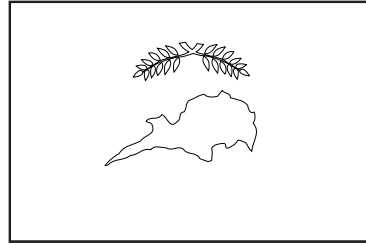

Italien





Italien





Zypern





Zypern




Lettland




Lettland




Litauen




Litauen





Luxemburg



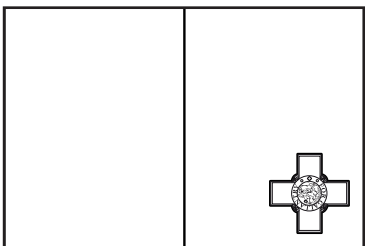

Luxemburg



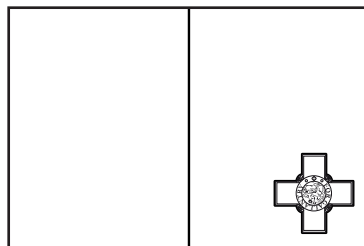

Ungarn





Ungarn





Malta




Malta




Niederlande




Niederlande




Österreich



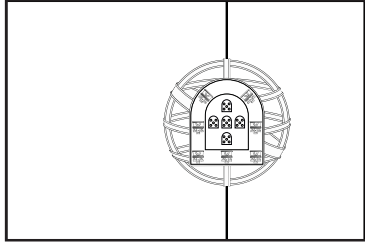

Österreich



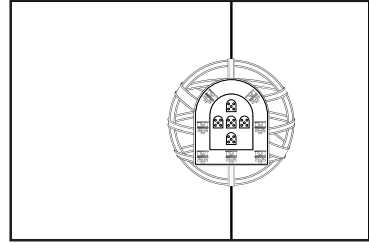

Polen




Polen





Portugal



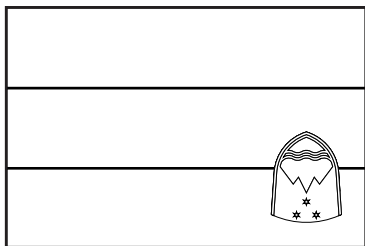

Portugal





Rumänien



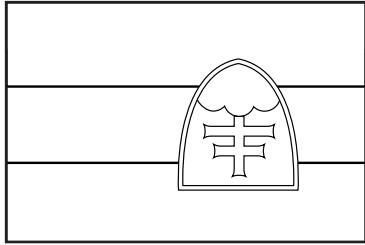

Rumänien



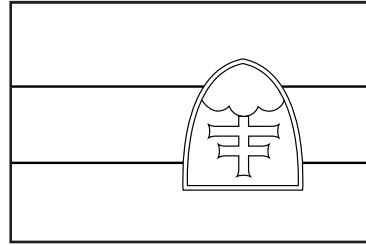

Slovenien



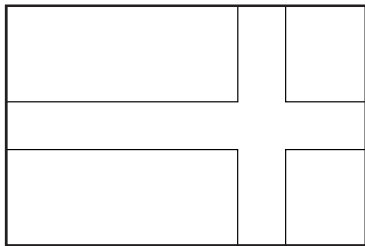

Slovenien



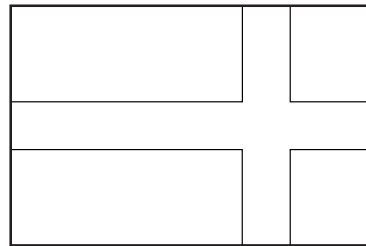

Slowakei



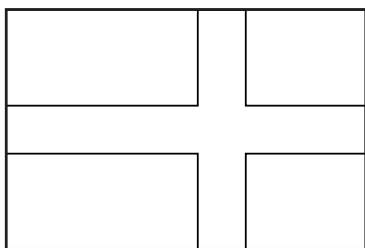

Slowakei



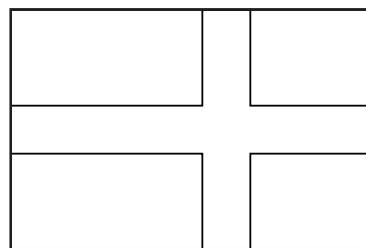

Finnland



Finnland



Schweden



Schweden



# Die EU und ihre Flaggen



Die Flagge der Europäischen Union symbolisiert die geeinten EU-Länder. Das Blau des Hintergrunds steht für den blauen Himmel über Europa. Der Kreis aus goldenen Sternen ist ein Symbol der Völker Europas, und die Zahl 12 steht für Einheit und Vollkommenheit.


Die Europäische Union hat rund **450 Millionen** Einwohner. Sie besteht aus **27 Ländern** und hat **24 Amtssprachen**.

Unten findest du mehr Informationen über die einzelnen EU-Länder.



## Belgien

Die Einwohnerzahl Belgiens beträgt rund **11,5 Millionen**. Die Hauptstadt ist **Brüssel**. Belgien hat drei Amtssprachen: **Niederländisch, Französisch** und **Deutsch**.



## Bulgarien

In Bulgarien leben etwa **7 Millionen** Menschen. Die Hauptstadt heißt **Sofia**. Landessprache ist **Bulgarisch**.



## Tschechien

In Tschechien leben rund **11 Millionen** Menschen. Die Hauptstadt ist **Prag**. Landessprache ist **Tschechisch**.



## Dänemark

Dänemark hat ungefähr **6 Millionen** Einwohner. Die Hauptstadt ist **Kopenhagen**. Landessprache ist **Dänisch**.



## Deutschland

In Deutschland leben ungefähr **83 Millionen** Menschen. Die Hauptstadt ist **Berlin**. Landessprache ist **Deutsch**.



## Estland

Die Einwohnerzahl Estlands beträgt rund **1,5 Millionen**. Die Hauptstadt des Landes heißt **Tallinn**. Landessprache ist **Estnisch**.



## Irland

Irland hat ungefähr **5 Millionen** Einwohner. Die Hauptstadt heißt **Dublin**. Die Landessprachen sind **Irisch** und **Englisch**.




## Griechenland

Griechenland hat etwa **10,5 Millionen** Einwohner. Die Hauptstadt ist **Athen**. Landessprache ist **Griechisch**.



## Spanien

Spanien hat etwa **47,5 Millionen** Einwohner. Die Hauptstadt ist **Madrid**. Landessprache ist **Spanisch**.



## Frankreich

Frankreich hat etwa **67,5 Millionen** Einwohner. Die Hauptstadt ist **Paris** und die Landessprache **Französisch**.



## Kroatien

Kroatien hat ungefähr **4 Millionen** Einwohner. Die Hauptstadt ist **Zagreb** und die Landessprache **Kroatisch**.



## Italien

In Italien leben rund **59,5 Millionen** Menschen. Die Hauptstadt ist **Rom**. Landessprache ist **Italienisch**.



## Zypern

Zypern hat etwa **900 000** Einwohner. Die Hauptstadt heißt **Nikosia**. Zypern hat zwei Landessprachen: **Griechisch** und **Türkisch**.



## Lettland

Lettland hat etwa **2 Millionen** Einwohner. Die Hauptstadt ist **Riga**.  
Landessprache ist **Lettisch**.



## Litauen

Litauen hat etwa **3 Millionen** Einwohner. Die Hauptstadt ist **Vilnius**.  
Landessprache ist **Litauisch**.



## Luxemburg

Im Großherzogtum Luxemburg leben mehr als **600 000** Menschen. Die Hauptstadt heißt wie das Land **Luxemburg**. Das Großherzogtum hat drei Landessprachen: **Französisch**, **Deutsch** und **Luxemburgisch**.



## Ungarn

Ungarn hat etwa **10 Millionen** Einwohner. Die Hauptstadt ist **Budapest**.  
Landessprache ist **Ungarisch**.



## Malta

Malta hat ungefähr **eine halbe Million** Einwohner. Die Hauptstadt ist **Valletta**.  
Die Landessprachen sind **Maltesisch** und **Englisch**.



## Niederlande

In den Niederlanden wohnen etwa **17,5 Millionen** Menschen. Die Hauptstadt ist **Amsterdam**. Landessprache ist **Niederländisch**.



## Österreich

Österreich hat etwa **9 Millionen** Einwohner. Die Hauptstadt ist **Wien** und die Landessprache **Deutsch**.



## Polen

Polen hat etwa **38 Millionen** Einwohner. Die Hauptstadt ist **Warschau**.  
Landessprache ist **Polnisch**.



## Portugal

Portugal hat rund **10,5 Millionen** Einwohner. Die Hauptstadt ist **Lissabon** und die Landessprache **Portugiesisch**.



## Rumänien

Die Einwohnerzahl Rumäniens beträgt etwa **19,5 Millionen**. Die Hauptstadt heißt **Bukarest**. Landessprache ist **Rumänisch**.



## Slowenien

Slowenien hat etwa **2 Millionen** Einwohner. Die Hauptstadt ist **Ljubljana**.  
Landessprache ist **Slowenisch**.



## Slowakei

In der Slowakei leben etwa **5,5 Millionen** Menschen. Die Hauptstadt ist **Bratislava**. Landessprache ist **Slowakisch**.



## Finnland

Die Einwohnerzahl Finnlands beträgt etwa **5,5 Millionen**. Die Hauptstadt heißt **Helsinki**.  
Finnland hat zwei Landessprachen: **Finnisch** und **Schwedisch**.



## Schweden

Schweden hat rund **10,5 Millionen** Einwohner. Die Hauptstadt ist **Stockholm**.  
Landessprache ist **Schwedisch**.